



lundi **8** novembre

1⁺2⁺3⁺
x



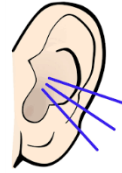
Une poule a 2 pattes.
Combien y a-t-il de pattes
pour 2 poules ?



8



mardi **9** novembre




9



jeudi **11** novembre

1⁺2⁺3⁺
x



Une lapin a 4 pattes.
Combien y a-t-il de pattes
pour 2 lapins ?




10

11



vendredi **12** novembre



Nous sommes trois frères.
Nous sommes partis de chez
nous pour construire, chacun,
notre maison.

Qui sommes-nous ?



12



lundi **15** novembre

1⁺2⁺3⁺
x



Une poule a 2 pattes.
Combien y a-t-il de pattes
pour 3 poules ?



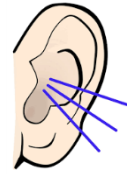
13

14

15



mardi **16** novembre



16



jeudi **18** novembre

1⁺2⁺3⁺
x



Une mouche a 6 pattes.
Combien y a-t-il de pattes
pour 2 mouches ?




17

18



vendredi **19** novembre



Je suis une princesse.
J'ai fait une promesse à un
animal qui m'a aidé à récupérer
un objet qui me tenait à cœur.
Qui suis-je ?



19



lundi **22** novembre

1⁺ 2⁺ 3⁺
x



Jules a 3 timbres.

Il en rachète 2.

Combien en a-t-il maintenant ?



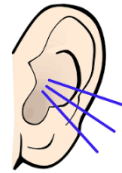
20

21

22



mardi **23** novembre



23



jeudi **25** novembre

1⁺2⁺
x 3



Camille a sorti 4 crayons.
Elle en a encore 4 dans sa
trousse.

Combien en a-t-elle en tout ?




24

25




vendredi **26** novembre



Je suis un animal.
Je suis très malin et j'ai
aidé mon maître à épouser
une princesse.

Qui suis-je ?

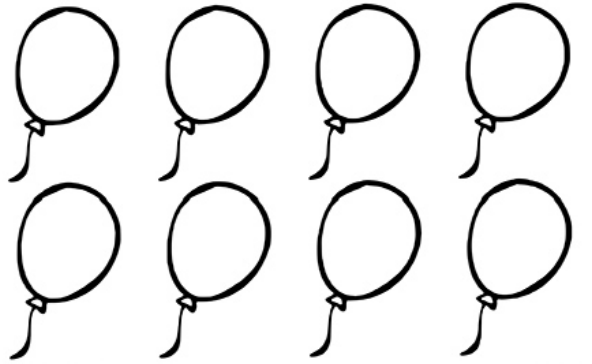


26



lundi **29** novembre

1⁺2⁺3⁺
x



Aimé a 8 ballons à partage, Alison lui en donne 2.

Combien en a-t-il maintenant ?



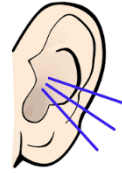
27

28

29



mardi **30** novembre




30



jeudi **2** décembre

1⁺ 2⁺ 3⁺



Je vois 4 poussins et 5 sont cachés dans le buisson.

Combien y a-t-il de poussins en tout ?




1

2



vendredi **3** décembre



Je suis un petit garçon et je suis très malin. Je dois mon nom à ma taille.

Qui suis-je ?




3



lundi **6** décembre

1 2 3
÷ ×



Maman a 4 bonbons. Elle en donne 2 à Ilan.

Combien lui reste-t-il de bonbons ?



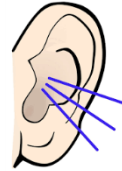
4

5

6



mardi **7** décembre




7



jeudi **9** décembre

1⁺2⁺3⁺
x



Il y a 6 bonbons. Manon en prend 2. Combien en reste-t-il pour son petit frère ?




8

9



vendredi **10** décembre



Je suis un animal.
Je suis rejeté parce que je suis différent des autres.
Qui suis-je ?

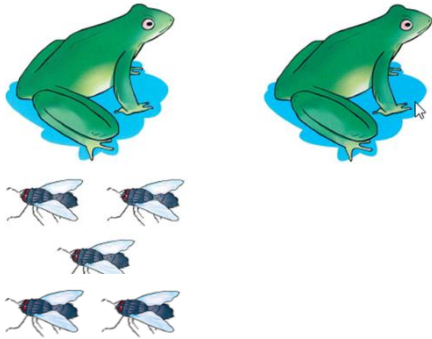


10



lundi **13** décembre

$1 + 2 = 3$
 $3 - 1 = 2$



Il y a 5 mouches. La première grenouille en attrape 3.
Combien en reste-t-il pour sa copine ?



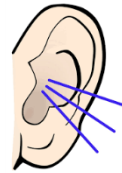
11

12

13



mardi **14** décembre



14



jeudi **16** décembre

1⁺2⁺3⁺
x



Il y a 8 canards en tout.
4 sont en train de nager.
Combien de canards sont hors
de l'eau ?




15

16



vendredi **17** décembre



Je suis une minuscule
petite fille.
J'ai été enlevée par une
grenouille et je me suis réfugiée
chez la souris des champs.
Qui suis-je ?



17